

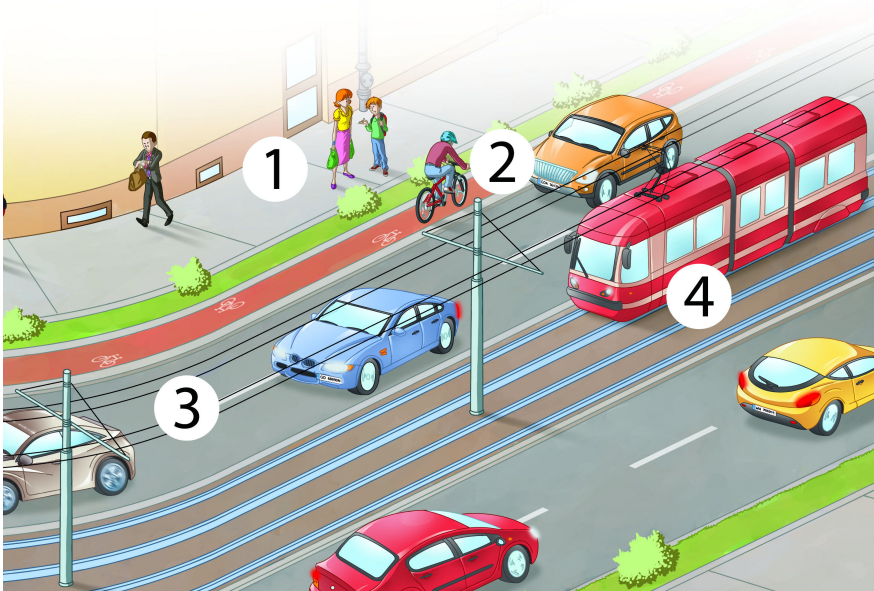
Imię i nazwisko

Klasa

Zadanie **1**

(... / 1 pkt)

Którym numerem na rysunku oznaczona jest droga dla rowerów?



- A. numerem 1
- B. numerem 2
- C. numerem 4

Zadanie **2**

(... / 1 pkt)

Który z poniższych znaków informuje, że piesi i rowerzyści mogą się poruszać po całej szerokości drogi?

A.



B.



C.

Zadanie **3**

(... / 1 pkt)

Co należy zrobić gdy podczas przechodzenia przez jezdnię zielone światło zacznie pulsować?

- A. Zatrzymać się i czekać na następne zielone światło.
- B. Zawrócić na chodnik.
- C. Jak najszybciej przejść na drugą stronę.

Zadanie **4**

(... / 1 pkt)

Ile osób maksymalnie może iść obok siebie w kolumnie pieszych wędrujących po drodze utwardzonej?

- A. Dwie osoby.
- B. Cztery osoby.
- C. Tyle osób, ile się zmieści na prawym pasie ruchu.

Zadanie **5**

(... / 1 pkt)

Którą stroną jezdni powinny poruszać się duże, zwarte grupy pieszych (na przykład na pielgrzymce)?

- A. prawą stroną jezdni
- B. lewą stroną jezdni
- C. wyłącznie poboczem

Zadanie **6**

(... / 1 pkt)

Jakie pojazdy zaliczamy do środków komunikacji publicznej?

- A. motocykle
- B. autobusy, pociągi i tramwaje
- C. prywatne samochody osobowe

Zadanie **7**

(... / 1 pkt)

Gdzie można wsiadać do środków komunikacji publicznej i wysiadać z nich?

- A. w dowolnym miejscu ich trasy
- B. tylko na tak zwanych pętlach
- C. tylko w miejscach wyznaczonych (przystanki i stacje)


Zadanie **8**

(... / 1 pkt)

Co należy zrobić gdy podczas gry ktoś wybije piłkę na jezdnię?

- A. Pobiec za piłką, aby uchronić ją przed zniszczeniem przez samochód.
- B. Podnieść prawą rękę do góry, aby zasygnalizować kierowcom zamiar pójścia po piłkę.
- C. Upewnić się, że z żadnej strony nie nadjeżdżają pojazdy i pójść po piłkę.

Co przedstawia poniższy rysunek?



- A. przejazd kolejowy strzeżony zaporami
- B. przejazd kolejowy ze światłem ostrzegawczym
- C. przejazd kolejowy niestrzeżony

Zadanie 10

(... / 1 pkt)

Który z przedstawionych poniżej znaków oznacza zakaz używania telefonów komórkowych?

A.



B.



C.



Zadanie 11

(... / 1 pkt)

Po której stronie drogi bez chodnika powinien poruszać się pieszy?

- A. po prawej
- B. po lewej
- C. po dowolnej stronie

Zadanie 12

(... / 1 pkt)

Co powinien nosić pieszy poruszający się poboczem drogi po zmierzchu?

- A. elementy odbłaskowe
- B. migające światło czerwone
- C. sygnalizator dźwiękowy

Zadanie **13**

(... / 1 pkt)

Czy piesi mogą się poruszać wzdłuż drogi bez pobocza?

- A. Nie, ponieważ grozi to wypadkiem.
- B. Tak, ale muszą iść jak najbliżej lewej krawędzi jezdni.
- C. Tak, ale muszą iść w pobliżu prawej krawędzi jezdni.

Zadanie **14**

(... / 1 pkt)

Jak wyglądają znaki zakazu?

- A. Są okrągłe, mają czerwoną obwódkę i białe tło.
- B. Są okrągłe i mają niebieskie tło.
- C. Są kwadratowe lub prostokątne.

Zadanie **15**

(... / 1 pkt)

Jaki rodzaj znaków drogowych ma kształt trójkąta?

- A. znaki informacyjne
- B. znaki ostrzegawcze
- C. znaki zakazu

Zadanie **16**

(... / 1 pkt)

Co oznacza przedstawiony znak drogowy?

- A. Ostrzeżenie o tym, że z danego odcinka drogi często korzystają dzieci.
- B. Zakaz przechodzenia przez jezdnię.
- C. Zakaz biegania po chodniku.



Zadanie **17**

(... / 1 pkt)

Co trzeba zrobić przed wkroczeniem na jezdnię?

- A. Zatrzymać się, spojrzeć w lewo, następnie w prawo i ponownie w lewo, aby upewnić się, że nie nadjeżdżają żadne pojazdy.
- B. Zatrzymać się, spojrzeć w prawo, następnie w lewo i ponownie w prawo, aby upewnić się, że nie nadjeżdżają żadne pojazdy.
- C. Przejść szybko przez jezdnię bez rozglądania się.

Zadanie **18**

(... / 1 pkt)

Dzwonisz pod numer 112. Co musisz zrobić po przekazaniu niezbędnych informacji dyspozytorowi?

- A. Natychmiast się rozłączyć, aby nie blokować linii.
- B. Kontynuować połączenie do chwili, gdy dyspozytor poleci się rozłączyć lub rozłączy się sam.
- C. Zadzwoić pod numer 999.

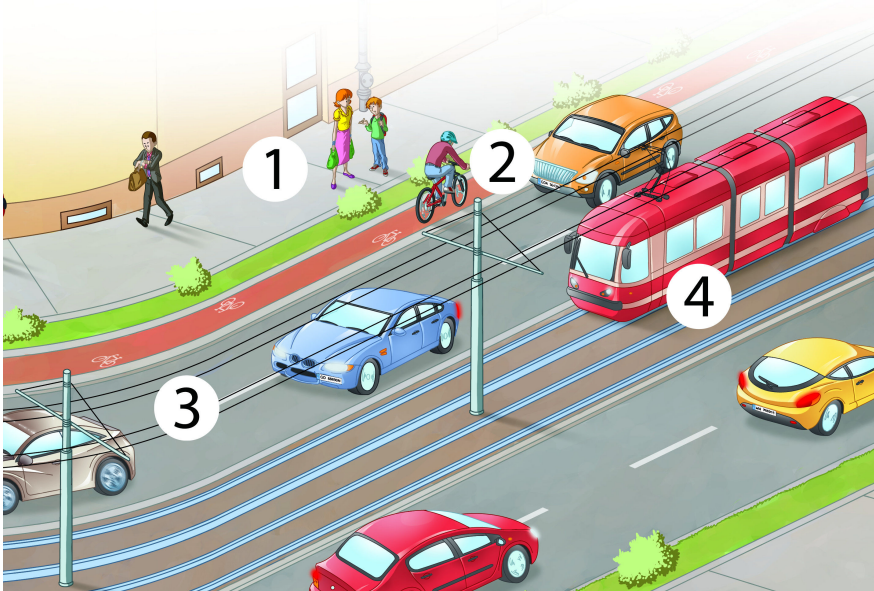
Imię i nazwisko

Klasa

Zadanie **1**

(... / 1 pkt)

Którym numerem na rysunku oznaczona jest droga dla rowerów?



- A. numerem 4
- B. numerem 1
- C. numerem 2

Zadanie **2**

(... / 1 pkt)

Który z poniższych znaków informuje, że piesi i rowerzyści mogą się poruszać po całej szerokości drogi?

Zadanie **3**

(... / 1 pkt)

Co należy zrobić gdy podczas przechodzenia przez jezdnię zielone światło zacznie pulsować?

- A. Zawrócić na chodnik.
- B. Jak najszybciej przejść na drugą stronę.
- C. Zatrzymać się i czekać na następne zielone światło.

Zadanie **4**

(... / 1 pkt)

Ile osób maksymalnie może iść obok siebie w kolumnie pieszych wędrujących po drodze utwardzonej?

- A. Tyle osób, ile się zmieści na prawym pasie ruchu.
- B. Dwie osoby.
- C. Cztery osoby.

Zadanie **5**

(... / 1 pkt)

Którą stroną jezdni powinny poruszać się duże, zwarte grupy pieszych (na przykład na pielgrzymce)?

- A. wyłącznie poboczem
- B. prawą stroną jezdni
- C. lewą stroną jezdni

Zadanie **6**

(... / 1 pkt)

Jakie pojazdy zaliczamy do środków komunikacji publicznej?

- A. prywatne samochody osobowe
- B. motocykle
- C. autobusy, pociągi i tramwaje

Zadanie **7**

(... / 1 pkt)

Gdzie można wsiadać do środków komunikacji publicznej i wysiadać z nich?

- A. tylko na tak zwanych pętlach
- B. tylko w miejscach wyznaczonych (przystanki i stacje)
- C. w dowolnym miejscu ich trasy


Zadanie **8**

(... / 1 pkt)

Co należy zrobić gdy podczas gry ktoś wybije piłkę na jezdnię?

- A. Pobiec za piłką, aby uchronić ją przed zniszczeniem przez samochód.
- B. Upewnić się, że z żadnej strony nie nadjeżdżają pojazdy i pójść po piłkę.
- C. Podnieść prawą rękę do góry, aby zasygnalizować kierowcom zamiar pójścia po piłkę.

Co przedstawia poniższy rysunek?



- A. przejazd kolejowy niestrzeżony
- B. przejazd kolejowy strzeżony zaporami
- C. przejazd kolejowy ze światłem ostrzegawczym

Zadanie 10

(... / 1 pkt)

Który z przedstawionych poniżej znaków oznacza zakaz używania telefonów komórkowych?

A.



B.



C.



Zadanie 11

(... / 1 pkt)

Po której stronie drogi bez chodnika powinien poruszać się pieszy?

- A. po dowolnej stronie
- B. po prawej
- C. po lewej

Zadanie 12

(... / 1 pkt)

Co powinien nosić pieszy poruszający się poboczem drogi po zmierzchu?

- A. sygnalizator dźwiękowy
- B. elementy odbłaskowe
- C. migające światło czerwone

Zadanie **13**

(... / 1 pkt)

Czy piesi mogą się poruszać wzdłuż drogi bez pobocza?

- A. Nie, ponieważ grozi to wypadkiem.
- B. Tak, ale muszą iść w pobliżu prawej krawędzi jezdni.
- C. Tak, ale muszą iść jak najbliżej lewej krawędzi jezdni.

Zadanie **14**

(... / 1 pkt)

Jak wyglądają znaki zakazu?

- A. Są kwadratowe lub prostokątne.
- B. Są okrągłe i mają niebieskie tło.
- C. Są okrągłe, mają czerwoną obwódkę i białe tło.

Zadanie **15**

(... / 1 pkt)

Jaki rodzaj znaków drogowych ma kształt trójkąta?

- A. znaki zakazu
- B. znaki informacyjne
- C. znaki ostrzegawcze

Zadanie **16**

(... / 1 pkt)

Co oznacza przedstawiony znak drogowy?

- A. Zakaz biegania po chodniku.
- B. Zakaz przechodzenia przez jezdnię.
- C. Ostrzeżenie o tym, że z danego odcinka drogi często korzystają dzieci.



Zadanie **17**

(... / 1 pkt)

Co trzeba zrobić przed wkroczeniem na jezdnię?

- A. Przejść szybko przez jezdnię bez rozglądania się.
- B. Zatrzymać się, spojrzeć w prawo, następnie w lewo i ponownie w prawo, aby upewnić się, że nie nadjeżdżają żadne pojazdy.
- C. Zatrzymać się, spojrzeć w lewo, następnie w prawo i ponownie w lewo, aby upewnić się, że nie nadjeżdżają żadne pojazdy.

Zadanie **18**

(... / 1 pkt)

Dzwonisz pod numer 112. Co musisz zrobić po przekazaniu niezbędnych informacji dyspozytorowi?

- A. Zadzwoić pod numer 999.
- B. Natychmiast się rozłączyć, aby nie blokować linii.
- C. Kontynuować połączenie do chwili, gdy dyspozytor poleci się rozłączyć lub rozłączy się sam.