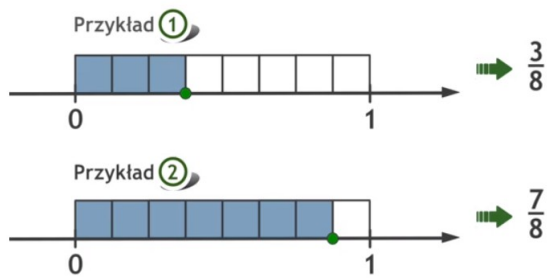
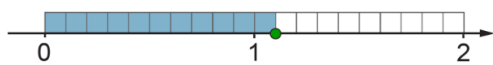
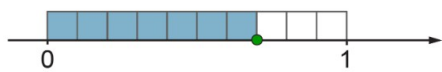


Temat: Ułamki i liczby mieszane na osi liczbowej.

Obejrzyj: <https://www.youtube.com/watch?v=W6nvjcfU0jo>

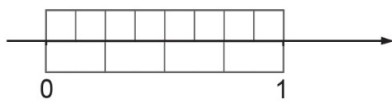


Jakiemu ułamkowi odpowiada punkt zaznaczony na osi liczbowej?

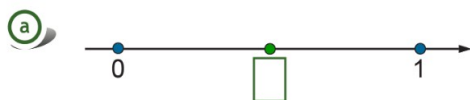


Ćwiczenie

Zaznacz na jednej osi liczbowej:  $\frac{6}{8}$  oraz  $\frac{3}{4}$ .



Jaki ułamek odpowiada punktowi zaznaczonemu na osi liczbowej zieloną kropką?



Kartkę proponuję wydrukować i wkleić osie do zeszytów.

Wykonaj w zeszycie zadania: 1/158, 2/158, 4/159, 5/159

Praca domowa: ćwiczeniówka strona 61